


# Intégrales multiples

Antoine Géré

Année 2024 - 2025<sup>1</sup>



Ces notes sont en cours d'élaboration. Si vous avez la moindre question ou remarque ne pas hésiter à contacter par mail : [a.gere@istom.fr](mailto:a.gere@istom.fr).

## Résumé

Vous connaissez les intégrales de fonctions d'une variable (parfois appelée intégrales simples). Le but de ce chapitre est de définir une notion d'intégrale pour les fonctions de plusieurs variables. L'une des nouveautés est la richesse des domaines sur lesquelles on peut intégrer. En effet, le domaine d'intégration d'une intégrale simple est toujours un intervalle (ou une union d'intervalles). Par contre, on peut intégrer une fonction de deux variables sur un rectangle, un disque, un domaine entouré par une courbe compliquée (on parle d'intégrales doubles). On peut intégrer une fonction de trois variables sur une sphère, un cylindre, un cône, un ellipsoïde, etc. (on parle d'intégrales triples). Des intégrales de fonctions de plusieurs variables interviennent dans toutes sortes de problèmes en physique.

## Table des matières

<b>1</b>	<b>Intégrales doubles</b>	<b>2</b>
1.1	Domaines d'intégration	2
1.2	Calculs d'une integrale double avec les deux types de balayage	3
1.3	Théoremes de Fubini	4
1.4	Propriétés	6
1.5	Changement de variables	7
1.6	Application au calcul du volume d'une boule	10
<b>2</b>	<b>Intégrales triples</b>	<b>12</b>
2.1	Calculs d'une integrale triple sur un compact elementaire	12
2.2	Theoreme de Fubini	13
2.3	Changement de variables	15
<b>3</b>	<b>Applications</b>	<b>18</b>

<sup>1</sup>version du 1<sup>er</sup> mai 2025

# 1 Intégrales doubles

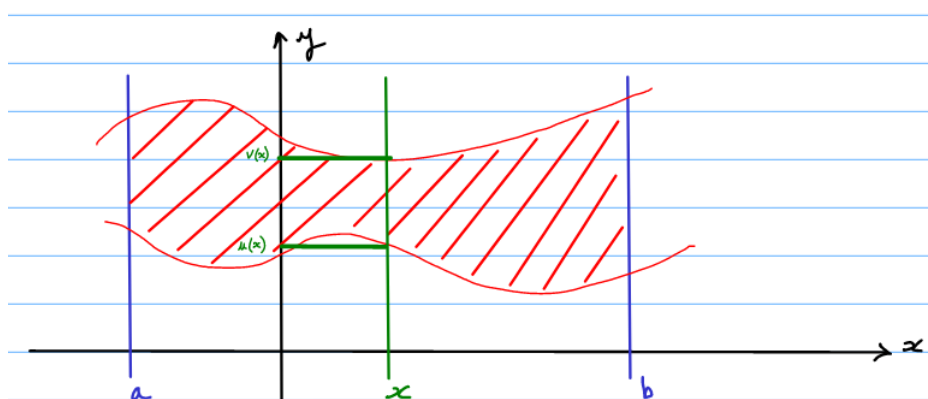
## 1.1 Domaines d'intégration

Dans le cas des intégrales double les domaines d'intégration sont des sous-ensembles de  $\mathbb{R}^2$ . La première chose à faire est donc de décrire ces domaine de  $\mathbb{R}^2$  de façon judicieuse. De multiples possibilités s'offrent à nous. Nous allons dans un premier temps nous intéresser à deux types spécifique de description, ou autrement dit de balayage du domaine : le balayage vertical puis le balayage horizontal.

**Définition 1** (Balayage vertical).

$$\Delta_V = \left\{ (x, y) \in \mathbb{R}^2 \mid a \leq x \leq b, u(x) \leq y \leq v(x) \right\},$$

où  $u$  et  $v$  sont continues et dérivables de  $[a, b]$  dans  $\mathbb{R}$ .

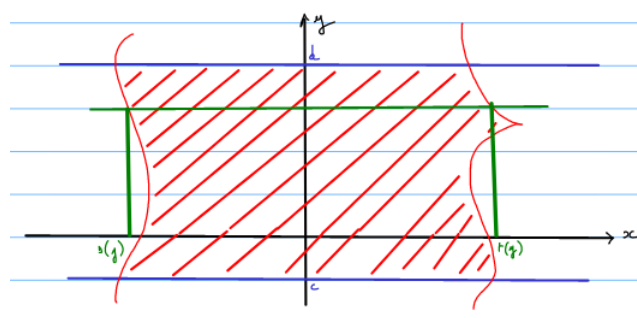


Ici dans le balayage vertical l'abscisse varie entre deux valeurs fixes  $a$  et  $b$ , tant dis que l'ordonnée  $y$  varie entre deux valeurs variables  $u(x)$  et  $v(x)$ .

**Définition 2** (Balayage horizontal).

$$\Delta_H = \left\{ (x, y) \in \mathbb{R}^2 \mid c \leq y \leq d, s(y) \leq x \leq t(y) \right\},$$

où  $s$  et  $t$  sont continues et dérivables de  $[c, d]$  dans  $\mathbb{R}$ .



Ici dans le balayage horizontal l'ordonnée  $y$  varie entre deux valeurs fixes  $c$  et  $d$ , tandis que l'abscisse  $x$  varie entre deux valeurs variables  $s(y)$  et  $t(y)$ .

## 1.2 Calculs d'une integrale double avec les deux types de balayage

**Définition 3** (Balayage vertical).

Pour  $(x, y) \in \Delta_V$ , c'est à dire  $a \leq x \leq b$  et  $u(x) \leq y \leq v(x)$ , on écrit

$$\iint_{\Delta_V} f = \iint_{\Delta_V} f(x, y) dx dy = \int_a^b \left( \int_{u(x)}^{v(x)} f(x, y) dy \right) dx.$$

On sait que si  $f$  est continue, positive, et derivable sur  $[a, b]$ , alors

$$\mathcal{A} = \int_a^b f(x) dx$$

est l'aire de la region du plan

$$\Delta = \left\{ (x, y) \in \mathbb{R}^2 \mid a \leq x \leq b, 0 \leq y \leq f(x) \right\}.$$

Or on a

$$f(x) = \int_0^{f(x)} 1 dy$$

donc l'aire considerée est egale a

$$\mathcal{A} = \int_a^b \left( \int_0^{f(x)} dy \right) dx = \iint_{\Delta} dx dy.$$

On definie l'aire d'un d'un domaine  $\Delta$  de  $\mathbb{R}^2$  par

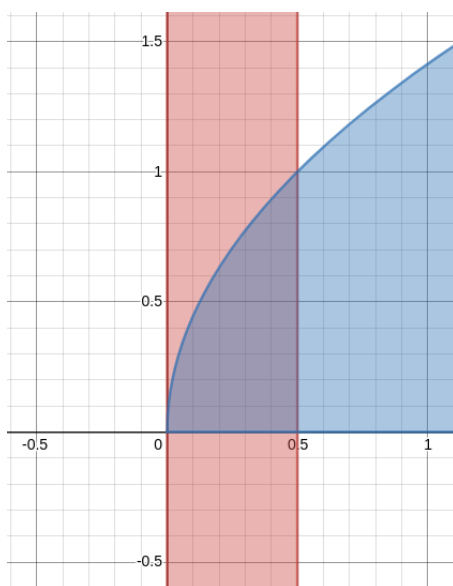
$$\mathcal{A}(\Delta) = \iint_{\Delta} 1.$$

**Exemple 1.**

Soit  $p > 0$ . On considere le domaine  $\Delta$  definie comme

$$\Delta = \left\{ (x, y) \in \mathbb{R}^2 \mid 0 \leq x \leq \frac{p}{2}, 0 \leq y \leq \sqrt{2px} \right\},$$

Calculons l'aire de ce domaine par balayage vertical. On note  $\mathcal{A}$  l'aire du domaine  $\Delta$ .



$$\mathcal{A} = \iint_{\Delta} 1 dx dy = \int_0^{\frac{p}{2}} \left( \int_0^{\sqrt{2px}} 1 dy \right) dx = \int_0^{\frac{p}{2}} \sqrt{2px} dx = \sqrt{2p} \left[ \frac{2}{3} x^{\frac{3}{2}} \right]_0^{\frac{p}{2}} = \sqrt{2p} \left( \frac{2}{3} \left( \frac{p}{2} \right)^{\frac{3}{2}} - 0 \right) = \frac{p^2}{3}.$$

#### Définition 4 (Balayage horizontal).

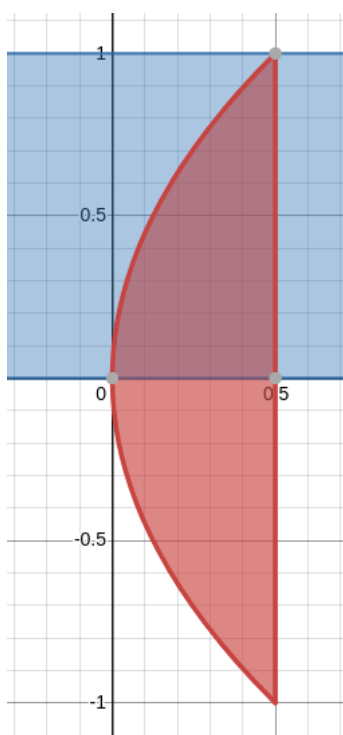
Pour  $(x, y) \in \Delta_H$ , c'est à dire  $c \leq y \leq d$  et  $s(y) \leq x \leq t(y)$ , on écrit

$$\iint_{\Delta_H} f = \iint_{\Delta_H} f(x, y) \, dx dy = \int_c^d \left( \int_{s(y)}^{t(y)} f(x, y) \, dy \right) dx.$$

#### Exemple 2.

Soit  $p > 0$ . On recalcule l'aire du domaine  $\Delta$  de l'exemple précédent avec cette fois un balayage horizontal. On note de nouveau  $\mathcal{A}$  l'aire du domaine  $\Delta$ .

$$\Delta = \left\{ (x, y) \in \mathbb{R}^2 \mid 0 \leq y \leq p, \frac{y^2}{2p} \leq x \leq \frac{p}{2} \right\}.$$



On a alors

$$\mathcal{A} = \iint_{\Delta} 1 \, dx dy = \int_0^p \left( \int_{\frac{y^2}{2p}}^{\frac{p}{2}} dx \right) dy = \int_0^p \left( \frac{p}{2} - \frac{y^2}{2p} \right) dy = \left[ \frac{p}{2}y - \frac{y^3}{6p} \right]_0^p = \frac{p^2}{2} - \frac{p^2}{6} = \frac{p^2}{3}$$

### 1.3 Théorèmes de Fubini

Formalisons ce que nous venons de voir.

#### Théorème 1 (Fubini, 1er cas).

Soit  $f : \mathbb{R}^2 \rightarrow \mathbb{R}$  une fonction continue définie sur  $\Delta = [a, b] \times [c, d]$ . On alors

$$\iint_{\Delta} f(x, y) \, dx \, dy = \int_a^b \left( \int_c^d f(x, y) \, dy \right) dx = \int_c^d \left( \int_a^b f(x, y) \, dx \right) dy.$$

Si  $f$  peut s'écrire comme le produit de deux fonctions tels que

$$f(x, y) = g(x) \times h(y),$$

alors

$$\iint_{\Delta} f(x, y) \, dx \, dy = \iint_{[a,b] \times [c,d]} g(x) h(y) \, dx \, dy = \int_a^b g(x) \, dx \times \int_c^d h(y) \, dy.$$

### Exemple 3.

Soit  $f(x, y) = x \cos(y)$ , avec

$$\Delta = [0, 1] \times \left[0, \frac{\pi}{2}\right].$$

On a alors

$$\iint_{\Delta} f(x, y) \, dx \, dy = \iint_{[0,1] \times [0,\pi/2]} x \cos(y) \, dx \, dy = \int_0^1 x \, dx \times \int_0^{\pi/2} \cos(y) \, dy = \left[\frac{1}{2}x^2\right]_0^1 \times [\sin(y)]_0^{\pi/2} = \frac{1}{2}.$$

### Exemple 4.

Soit  $f(x, y) = x^2y - 1$ , avec

$$\Delta = [-1, 1] \times [0, 1].$$

On a alors

$$\begin{aligned} \iint_{\Delta} f(x, y) \, dx \, dy &= \iint_{[-1,1] \times [0,1]} (x^2y - 1) \, dx \, dy \\ &= \int_{-1}^1 \left( \int_0^1 (x^2y - 1) \, dy \right) dx \\ &= \int_{-1}^1 \left( \left[ \frac{1}{2}x^2y^2 - y \right]_{y=0}^{y=1} \right) dx \\ &= \int_{-1}^1 \left( \frac{1}{2}x^2 - 1 \right) dx \\ &= \left[ \frac{1}{6}x^3 - x \right]_{-1}^1 \\ \iint_{\Delta} f(x, y) \, dx \, dy &= -\frac{5}{3} \end{aligned}$$

### Théorème 2 (Fubini, 2ème cas).

Soit une fonction  $f$  de  $\mathbb{R}^2$  dans  $\mathbb{R}$ , continue et définie sur un ensemble borné  $\Delta$  quelconque.

- Pour tout  $(x, y) \in \Delta$ , il existe des valeurs  $a, b \in \mathbb{R}$  tels que  $a \leq x \leq b$
- Pour tout  $x \in [a, b]$ , il existe  $c(x)$  et  $d(x)$  tels que  $c(x) \leq y \leq d(x)$ ,

de telle sorte que

$$\Delta = \left\{ (x, y) \in \mathbb{R}^2 \mid x \in [a, b], y \in [c(x), d(x)] \right\}.$$

On peut également écrire  $\Delta$  de la façon suivante.

- Pour tout  $(x, y) \in \Delta$ , il existe des valeurs  $c, d \in \mathbb{R}$  tels que  $c \leq y \leq d$
- Pour tout  $y \in [c, d]$ , il existe  $a(y)$  et  $b(y)$  tels que  $a(y) \leq x \leq b(y)$

de telle sorte que

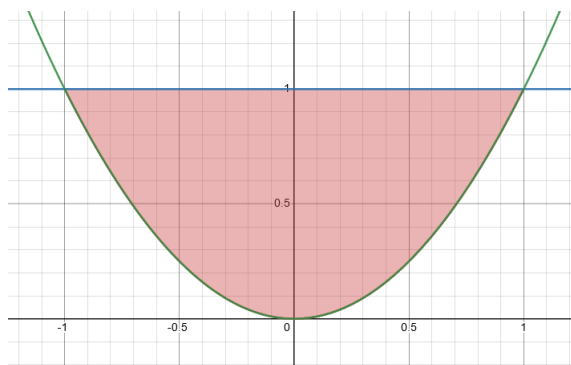
$$\Delta = \left\{ (x, y) \in \mathbb{R}^2 \mid y \in [c, d], x \in [a(y), b(y)] \right\}.$$

On a alors

$$\iint_{\Delta} f(x, y) \, dx \, dy = \int_a^b \left( \int_{c(x)}^{d(x)} f(x, y) \, dy \right) dx = \int_c^d \left( \int_{a(y)}^{b(y)} f(x, y) \, dx \right) dy.$$

### Exemple 5.

Soient  $f(x, y) = x^2 y$ , et  $\Delta$  la partie du plan  $xOy$  délimitée par l'arc de parabole  $y = x^2$ , et la droite  $y = 1$ .



On peut alors écrire

$$\Delta = \{(x, y) \in \mathbb{R}^2 \mid x \in [-1, 1], y \in [x^2, 1]\}.$$

Par conséquent, on a :

$$\begin{aligned} \iint_{\Delta} f(x, y) \, dx \, dy &= \iint_{\Delta} x^2 y \, dx \, dy \\ &= \int_{-1}^1 x^2 \, dx \int_{x^2}^1 y \, dy \\ &= \int_{-1}^1 x^2 \left[ \frac{1}{2} y^2 \right]_{x^2}^1 \, dx \\ &= \int_{-1}^1 \frac{1}{2} (x^2 - x^4) \, dx \\ &= \frac{1}{2} \left[ \frac{1}{3} x^3 - \frac{1}{5} x^5 \right]_{x=-1}^{x=1} \\ \iint_{\Delta} f(x, y) \, dx \, dy &= \frac{2}{15}. \end{aligned}$$

## 1.4 Propriétés

Pour calculer les intégrales doubles, on utilise les propriétés suivantes.

### Proposition 1.

1) Pour tout  $\lambda, \mu \in \mathbb{R}$  on a

$$\iint_D (\lambda f(x, y) + \mu g(x, y)) \, dx \, dy = \lambda \iint_D f(x, y) \, dx \, dy + \mu \iint_D g(x, y) \, dx \, dy.$$

2) Si  $D = D_1 \cup D_2$  et  $D_1 \cap D_2 = \emptyset$  ou courbe, alors

$$\iint_D f(x, y) \, dx \, dy = \iint_{D_1} f(x, y) \, dx \, dy + \iint_{D_2} f(x, y) \, dx \, dy.$$

3) Si  $f(x, y) \leq g(x, y)$  pour tout  $(x, y) \in D$ , alors

$$\iint_D f(x, y) \, dx \, dy \leq \iint_D g(x, y) \, dx \, dy.$$

4) Nous avons l'inégalité suivante

$$\left| \iint_D f(x, y) \, dx \, dy \right| \leq \iint_D |f(x, y)| \, dx \, dy.$$

5) Si  $D$  est symétrique par rapport à l'axe des abscisses, c'est à dire pour tout  $(x, y) \in D$   $f(x, -y) = f(x, y)$ , alors en posant

$$\Delta_1 = \{(x, y) \in \Delta, y \geq 0\}$$

on a

$$\iint_{\Delta} f = 2 \iint_{\Delta_1} f.$$

## 1.5 Changement de variables

**Théorème 3** (Changement de variables).  
Considérons l'intégrale

$$\iint_D f(x, y) \, dx \, dy$$

et un changement de variables

$$(x, y) = (a(u, v), b(u, v)).$$

Pour exprimer l'intégrale en termes de la fonction

$$g(u, v) = f(a(u, v), b(u, v))$$

, il faut exprimer  $D$  et le produit  $dx \, dy$  en termes de  $(u, v)$ .

- Le domaine  $D$  se transforme en le domaine

$$\Delta = \{(u, v) \in \mathbb{R}^2 \mid (x, y) = (a(u, v), b(u, v)) \in D\}.$$

- Les éléments  $dx$  et  $dy$  se transforment comme

$$dx \, dy = |\det(J(u, v))| \, du \, dv$$

où  $\det(J(u, v))$  est le déterminant de la matrice Jacobienne

$$J(u, v) = \begin{pmatrix} \frac{\partial x}{\partial u} & \frac{\partial x}{\partial v} \\ \frac{\partial y}{\partial u} & \frac{\partial y}{\partial v} \end{pmatrix}.$$

Donc on a

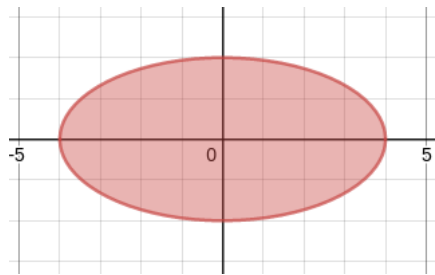
$$\iint_D f(x, y) \, dx \, dy = \iint_{\Delta} g(u, v) |\det(J(u, v))| \, du \, dv.$$

### Exemple 6.

On considère le domaine  $\Delta$  définie comme

$$\Delta = \left\{ (x, y) \in \mathbb{R}^2, \frac{x^2}{a^2} + \frac{y^2}{b^2} \leq 1 \right\}$$

avec  $(a, b) \in \mathbb{R}_+^* \times \mathbb{R}_+^*$ .

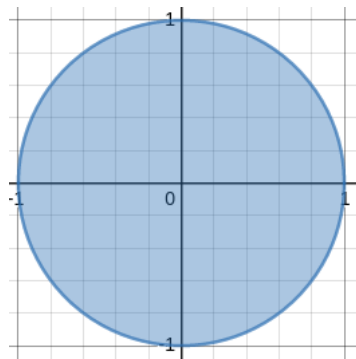


On pose  $u = \frac{x}{a}$  et  $v = \frac{y}{b}$ , donc  $x = au$  et  $y = bv$ . On a alors

$$|\det(J(u,v))| = \left| \frac{dx}{du} \frac{dy}{dv} - \frac{dx}{dv} \frac{dy}{du} \right| = |a \times b - 0 \times 0| = |a \times b| = ab$$

car  $a$  et  $b$  sont positifs. De plus  $\Delta$  se transforme en le domaine  $D$  définie comme suit

$$D = \{(u,v) \in \mathbb{R}^2, u^2 + v^2 \leq 1\}.$$



On se retrouve à calculer l'aire du disque centre en l'origine et de rayon 1. On alors d'après le theoreme precedent

$$\iint_{\Delta} dx dy = \iint_D J(u,v) du dv = ab \iint_D du dv = \pi ab$$

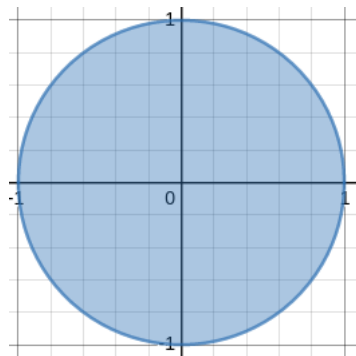
### Exemple 7.

Considerons l'integrale

$$I = \iint_{\Delta} x^2 dx dy$$

avec

$$\Delta = \{(x,y) \in \mathbb{R}^2, x^2 + y^2 \leq 1\}.$$



On a une symetrie par rapport au axes des abscisses et ordonnées.

$$\begin{aligned} \iint_{\Delta} x^2 dx dy &= 2 \int_{-1}^1 \left( \int_0^{\sqrt{1-x^2}} x^2 dy \right) dx \\ &= 4 \int_0^1 x^2 \sqrt{1-x^2} dx \end{aligned}$$



On effectue le changement de variable  $x = \cos(t)$ . On a alors  $dx = -\sin(t) dt$ .

- pour  $x = 0$  on a  $t = \frac{\pi}{2}$ .
- pour  $x = 1$  on a  $t = 0$ .

Donc

$$\begin{aligned} I &= 4 \int_0^{\frac{\pi}{2}} \cos^2(t) \sqrt{1 - \cos^2(t)} \sin(t) dt \\ &= 4 \int_0^{\frac{\pi}{2}} \cos^2(t) \sin^2(t) dt \\ &= \int_0^{\frac{\pi}{2}} \sin^2(2t) dt \\ I &= \frac{\pi}{4} \end{aligned}$$

### Cas des coordonnées polaires

Considerons l'intégrale

$$\iint_D f(x, y) dx dy$$

et le changement de variables en coordonnées polaires

$$(x, y) = (r \cos(\theta), r \sin(\theta)).$$

Pour exprimer l'intégrale en termes de la fonction  $g(r, \theta) = f(r \cos(\theta), r \sin(\theta))$ , il faut exprimer  $D$  et le produit  $dx dy$  en termes de  $(r, \theta)$ .

- Le domaine  $D$  se transforme en le domaine

$$\Delta = \{(r, \theta) \in \mathbb{R}^2 \mid (x, y) = (r \cos(\theta), r \sin(\theta)) \in D\}.$$

- Les éléments  $dx$  et  $dy$  se transforment comme

$$dx dy = r dr d\theta.$$

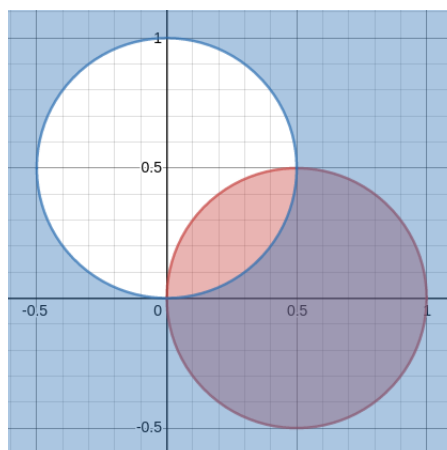
### Exemple 8.

Calculons

$$I = \iint_D (x^2 + y^2) dx dy$$

avec

$$D = \{(x, y) \in \mathbb{R}^2, x^2 + y^2 - x \leq 0, x^2 + y^2 - y \geq 0, y \geq 0\}.$$



On effectue un changement de variable en coordonnées polaires donc

$$x = r \cos(\theta) \quad y = r \sin(\theta) \quad \text{et} \quad dx \, dy = r \, dr \, d\theta.$$

Le domaine  $D$  devient

$$\begin{aligned} x^2 + y^2 - x &\leq 0 \Leftrightarrow r^2 - r \cos(\theta) \leq 0 \Leftrightarrow r - \cos(\theta) \leq 0 \\ x^2 + y^2 - y &\geq 0 \Leftrightarrow r^2 - r \sin(\theta) \geq 0 \Leftrightarrow r - \sin(\theta) \geq 0 \\ y &\geq 0 \Leftrightarrow r \sin(\theta) \geq 0 \end{aligned}$$

Avec les deux premières inégalités nous pouvons écrire

$$\sin(\theta) - \cos(\theta) \leq 0 \Leftrightarrow \sin(\theta) \leq \cos(\theta).$$

On a alors

$$\sin(\theta) \leq r \leq \cos(\theta) \quad \text{et} \quad 0 \leq \theta \leq \frac{\pi}{4}$$

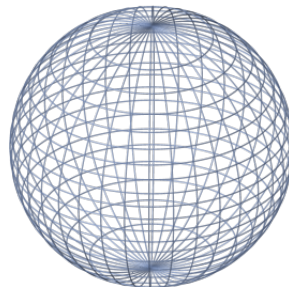
Donc

$$\begin{aligned} I &= \iint_D (x^2 + y^2) \, dx \, dy \\ &= \int_0^{\frac{\pi}{4}} \left( \int_{\sin(\theta)}^{\cos(\theta)} r^2 \, r \, dr \right) d\theta \\ &= \int_0^{\frac{\pi}{4}} \left( \int_{\sin(\theta)}^{\cos(\theta)} r^3 \, dr \right) d\theta \\ &= \frac{1}{4} \int_0^{\frac{\pi}{4}} (\cos^4(\theta) - \sin^4(\theta)) \, d\theta \\ &= \frac{1}{4} \int_0^{\frac{\pi}{4}} \cos(2\theta) \, d\theta \\ I &= \frac{1}{8} \end{aligned}$$

## 1.6 Application au calcul du volume d'une boule

Volume de la boule en coordonnées cartésiennes

Le volume de la boule  $B = \{(x, y, z) \in \mathbb{R}^3 \mid x^2 + y^2 + z^2 \leq 1\}$

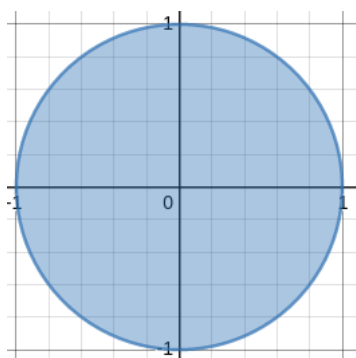


est deux fois le volume de la demi boule

$$B^+ = \{(x, y, z) \in \mathbb{R}^3 \mid x^2 + y^2 + z^2 \leq 1, \, y \geq 0\},$$

comprise entre le plan  $xOy$  et le graphe de la fonction  $z = \sqrt{1 - x^2 - y^2}$ . On a alors

$$\text{Vol}(B) = 2 \iint_D \sqrt{1 - x^2 - y^2} \, dx \, dy, \quad \text{où} \quad D = \{(x, y) \in \mathbb{R}^2 \mid x^2 + y^2 \leq 1\}.$$



On peut décrire  $D$  comme l'ensemble

$$D = \left\{ (x, y) \in \mathbb{R}^2 \mid x \in [-1, 1], y \in [-\sqrt{1-x^2}, \sqrt{1-x^2}] \right\},$$

donc on a

$$\begin{aligned} \text{Vol}(B) &= 2 \int_{-1}^1 dx \int_{-\sqrt{1-x^2}}^{\sqrt{1-x^2}} \sqrt{1-x^2-y^2} dy \\ &= 2 \int_{-1}^1 dx \int_{-\sqrt{1-x^2}}^{\sqrt{1-x^2}} \sqrt{1-x^2} \sqrt{1-\frac{y^2}{1-x^2}} dy. \end{aligned}$$

Avec le changement de variable  $\frac{y}{\sqrt{1-x^2}} = \sin t$ , on a

$$-\sqrt{1-x^2} \leq y \leq \sqrt{1-x^2} \implies -1 \leq \sin t \leq 1 \implies -\frac{\pi}{2} \leq t \leq \frac{\pi}{2},$$

et

$$\frac{y^2}{1-x^2} = \sin^2 t \implies \sqrt{1-\frac{y^2}{1-x^2}} = \sqrt{1-\sin^2 t} = \sqrt{\cos^2 t} = |\cos t| = \cos t$$

pour  $t \in [-\frac{\pi}{2}, \frac{\pi}{2}]$ . On a également

$$y = \sqrt{1-x^2} \sin t \implies dy = \sqrt{1-x^2} \cos t dt.$$

En sachant que  $2 \int_{-\pi/2}^{\pi/2} \cos^2 t dt = \pi$ , on a alors

$$\begin{aligned} \text{Vol}(B) &= 2 \int_{-1}^1 (1-x^2) dx \int_{-\pi/2}^{\pi/2} \cos^2 t dt \\ &= \pi \int_{-1}^1 (1-x^2) dx \\ &= \pi \left[ x - \frac{1}{3}x^3 \right]_{-1}^1 \\ \text{Vol}(B) &= \frac{4\pi}{3}. \end{aligned}$$

Volume de la boule en coordonnées polaires.

Pour  $B = \{(x, y, z) \in \mathbb{R}^3 \mid x^2 + y^2 + z^2 \leq 1\}$ , calculons

$$\text{Vol}(B) = 2 \iint_D \sqrt{1-x^2-y^2} dx dy, \quad \text{où } D = \{(x, y) \in \mathbb{R}^2 \mid x^2 + y^2 \leq 1\}.$$

avec le changement de variables en coordonnées polaires,

$$(x, y) = (\rho \cos \varphi, \rho \sin \varphi).$$

Puisque

$$x^2 + y^2 = \rho^2$$

on a

$$\sqrt{1 - x^2 - y^2} = \sqrt{1 - \rho^2}$$

et

$$(\rho, \varphi) \in [0, 1] \times [0, 2\pi[.$$

En sachant que

$$dx dy = \rho d\rho d\varphi$$

et en utilisant le theoreme de Fubini pour separer les variables, on a

$$\text{Vol}(B) = 2 \iint_{[0,1] \times [0,2\pi[} \sqrt{1 - \rho^2} \rho d\rho d\varphi = 2 \int_0^1 \sqrt{1 - \rho^2} \rho d\rho \int_0^{2\pi} d\varphi.$$

L'intégrale en  $\varphi$  est simple

$$\int_0^{2\pi} d\varphi = [\varphi]_0^{2\pi} = 2\pi.$$

Pour l'autre, si on pose  $t = 1 - \rho^2$  on a

$$\rho = 0 \implies t = 1 \quad \text{et} \quad \rho = 1 \implies t = 0,$$

$$\sqrt{1 - \rho^2} = \sqrt{t} = t^{1/2},$$

$$dt = -2\rho d\rho \implies \rho d\rho = -\frac{1}{2} dt,$$

et on obtient enfin

$$\begin{aligned} \text{Vol}(B) &= -\frac{2}{2} 2\pi \int_1^0 t^{1/2} dt \\ &= 2\pi \int_0^1 t^{1/2} dt \\ &= 2\pi \left[ \frac{1}{\frac{1}{2} + 1} t^{\frac{1}{2} + 1} \right]_0^1 \\ &= 2\pi \frac{2}{3} \left[ t^{\frac{3}{2}} \right]_0^1 \\ \text{Vol}(B) &= \frac{4\pi}{3}. \end{aligned}$$

## 2 Intégrales triples

### 2.1 Calculs d'une integrale triple sur un compact elementaire

#### Sommation par pile

On appelle compact de  $\mathbb{R}^3$  toute partie fermée et bornée de  $\mathbb{R}^3$ . On appelle compact elementaire de  $\mathbb{R}^3$  toute partie  $\Delta$  de  $\mathbb{R}^3$  pouvant être définie par :

**Définition 5** (Sommation par pile).

Pour  $(x, y, z) \in \Delta_1$ , avec ce domaine définie comme

$$\Delta_1 = \left\{ (x, y, z) \in \mathbb{R}^3 \mid (x, y) \in D \quad \text{et} \quad u(x, y) \leq z \leq v(x, y) \right\}$$

on a

$$\iiint_{\Delta_1} f = \int \int_{\Delta_1} f(x, y, z) dx dy dz = \iint_D \left( \int_{u(x,y)}^{v(x,y)} f(x, y, z) dz \right) dx dy.$$

### Cas particulier.

Soit  $f$  une fonction positive et continue sur  $D$ . L'intégrale

$$\iint_D f(x,y) dx dy$$

est le volume de

$$\Delta_1 = \left\{ (x,y,z) \in \mathbb{R}^3 \mid (x,y) \in D \text{ et } u(x,y) \leq z \leq v(x,y) \right\}$$

or

$$f(x,y) = \int_0^{f(x,y)} 1 dz$$

donc le volume de  $\Delta_1$  est

$$\iiint_{\Delta_1} 1 dx dy dz.$$

### Sommation par tranche

On appelle compact de  $\mathbb{R}^3$  toute partie fermée et bornée de  $\mathbb{R}^3$ . On appelle compact élémentaire de  $\mathbb{R}^3$  toute partie  $\Delta$  de  $\mathbb{R}^3$  pouvant être définie par :

**Définition 6** (Sommation par tranche).

$(x,y,z) \in \Delta_1$ , avec ce domaine définie comme

$$\Delta_2 = \left\{ (x,y,z) \in \mathbb{R}^3 \mid a \leq z \leq b, (x,y) \in D_z \right\},$$

on a

$$\iiint_{\Delta_2} f = \int_a^b \left( \iint_{D_z} f(x,y,z) dx dy \right) dz.$$

## 2.2 Théorème de Fubini

**Théorème 4** (Théorème de Fubini (1)).

Si

$$\Omega = [a,b] \times [c,d] \times [e,g]$$

est un parallélépipède, alors

$$\iiint_{\Omega} f(x,y,z) dx dy dz = \int_a^b dx \int_c^d dy \int_e^g dz f(x,y,z)$$

dans l'ordre qu'on veut.

### Exemple 9.

$$\begin{aligned}
 \iiint_{[0,1] \times [1,2] \times [2,3]} (x^2 - 2yz) \, dx \, dy \, dz &= \int_2^3 dz \int_1^2 dy \int_0^1 dx (x^2 - 2yz) \\
 &= \int_2^3 dz \int_1^2 dy \left[ \frac{1}{3}x^3 - 2xyz \right]_{x=0}^{x=1} \\
 &= \int_2^3 dz \int_1^2 dy \left( \frac{1}{3} - 2yz \right) \\
 &= \int_2^3 \left[ \frac{1}{3}y - y^2z \right]_{y=1}^{y=2} dz \\
 &= \int_2^3 \left( \frac{2}{3} - 4z - \frac{1}{3} + z \right) dz \\
 &= \int_2^3 \left( \frac{1}{3} - 3z \right) dz \\
 &= \left[ \frac{1}{3}z - \frac{3}{2}z^2 \right]_2^3 \\
 &= \frac{3}{3} - \frac{27}{2} - \frac{2}{3} + \frac{12}{2} \\
 &= \frac{1}{3} - \frac{15}{2} \\
 &= -\frac{43}{6}
 \end{aligned}$$

**Théorème 5** (Theoreme de Fubini (2)).

Si

$$\Omega = \left\{ (x, y, z) \in \mathbb{R}^3 \mid x \in [a, b], y \in [c(x), d(x)], z \in [e(x, y), g(x, y)] \right\}$$

est un ensemble borné quelconque, alors

$$\iiint_{\Omega} f(x, y, z) \, dx \, dy \, dz = \int_a^b dx \int_{c(x)}^{d(x)} dy \int_{e(x, y)}^{g(x, y)} dz f(x, y, z)$$

(ordre forcé).

### Exemple 10.

Si  $\Omega$  est le cylindre plein, de base le disque

$$D = \left\{ (x, y, z) \in \mathbb{R}^3 \mid x^2 + y^2 \leq 1, z = 0 \right\}$$

et de hauteur 3, on peut écrire

$$\begin{aligned}
 \Omega &= \left\{ (x, y, z) \in \mathbb{R}^3 \mid x^2 + y^2 \leq 1, 0 \leq z \leq 3 \right\} \\
 &= \left\{ (x, y, z) \in \mathbb{R}^3 \mid x \in [-1, 1], y \in [-\sqrt{1-x^2}, \sqrt{1-x^2}], z \in [0, 3] \right\}
 \end{aligned}$$

et donc

$$\begin{aligned}
 \iiint_{\Omega} (1 - 2yz) \, dx \, dy \, dz &= \int_0^3 dz \iint_D (1 - 2yz) \, dx \, dy \\
 &= \int_0^3 dz \int_{-1}^1 dx \int_{-\sqrt{1-x^2}}^{\sqrt{1-x^2}} (1 - 2yz) \, dy \\
 &= \int_0^3 dz \int_{-1}^1 \left[ y - y^2 z \right]_{y=-\sqrt{1-x^2}}^{y=\sqrt{1-x^2}} dx \\
 &= \int_0^3 dz \int_{-1}^1 \left( \sqrt{1-x^2} - (1-x^2)z + \sqrt{1-x^2} + (1-x^2)z \right) dx \\
 &= \int_0^3 dz \int_{-1}^1 2\sqrt{1-x^2} \, dx \\
 &= 3 \int_{-\pi/2}^{\pi/2} 2 \cos^2 t \, dt \\
 &= 3\pi
 \end{aligned}$$

## 2.3 Changement de variables

Considerons l'intégrale

$$\iiint_D f(x, y, z) \, dx \, dy \, dz$$

et un changement de variables

$$(x, y, z) = (a(u, v, w), b(u, v, w), c(u, v, w)).$$

Pour exprimer l'intégrale en termes de la fonction

$$g(u, v, w) = f(a(u, v, w), b(u, v, w), c(u, v, w))$$

, il faut exprimer  $D$  et le produit  $dx \, dy \, dz$  en termes de  $(u, v, w)$ .

- Le domaine  $D$  se transforme en le domaine

$$\Delta = \{(u, v, w) \in \mathbb{R}^3 \mid (x, y, z) = (a(u, v, w), b(u, v, w), c(u, v, w)) \in D\}.$$

- Les éléments  $dx$ ,  $dy$  et  $dz$  se transforment comme

$$dx dy dz = |\det(J(u, v, w))| \, du dv dw$$

où  $\det(J(u, v, w))$  est le déterminant de la matrice Jacobienne

$$J(u, v, w) = \begin{pmatrix} \frac{\partial x}{\partial u} & \frac{\partial x}{\partial v} & \frac{\partial x}{\partial w} \\ \frac{\partial y}{\partial u} & \frac{\partial y}{\partial v} & \frac{\partial y}{\partial w} \\ \frac{\partial z}{\partial u} & \frac{\partial z}{\partial v} & \frac{\partial z}{\partial w} \end{pmatrix}.$$

On arrive finalement au théorème suivant.

**Théorème 6** (Changement de variables).

$$\iiint_D f(x, y, z) \, dx \, dy \, dz = \iiint_{\Delta} g(u, v, w) |\det(J(u, v, w))| \, du \, dv \, dw.$$

**Théorème 7** (Changement de variables en coordonnées cylindriques).

Si

$$\begin{cases} x = r \cos \theta \\ y = r \sin \theta \\ z = z \end{cases}$$

alors  $dx \, dy \, dz$  devient  $r \, dr \, d\theta \, dz$

**Exemple 11.**

Calculons

$$I = \iiint_D f(x, y, z) dx dy dz$$

où

$$D = \{(x, y, z) \mid 0 \leq z \leq 1, x^2 + y^2 \leq z^2\}$$

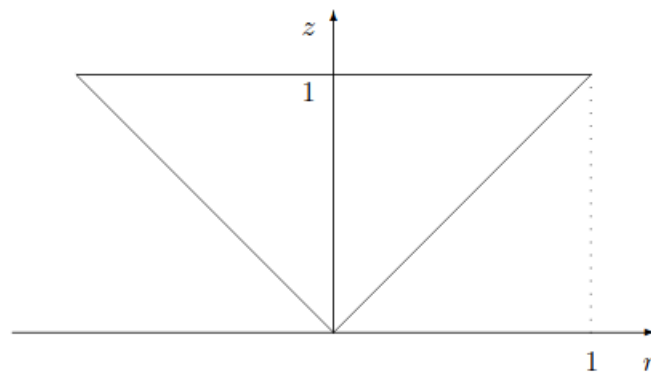
et

$$f(x, y, z) = |xyz|$$

Le domaine  $D$  est invariant par rotation d'axe  $Oz$ . On utilise les coordonnées cylindriques.

$$x = r \cos t, \quad y = r \sin t, \quad z = z$$

Le dessin suivant représente l'intersection de  $D$  avec le plan  $rOz$ .



Le cône d'équation cartésienne

$$x^2 + y^2 = z^2$$

a pour équation cylindrique  $r = z$ . On intègre donc sur le domaine

$$\Delta = \{(r, t, z) \mid 0 \leq r \leq z \leq 1, -\pi \leq t \leq \pi\}$$

et

$$f(r \cos t, r \sin t, z) = r^2 |\cos t \sin t| z = \frac{r^2}{2} |\sin 2t| z.$$

Donc

$$I = \iiint_{\Delta} f(r \cos t, r \sin t, z) r dr dt dz = \iiint_{\Delta} \frac{r^3}{2} |\sin 2t| z dr dt dz.$$

Lorsque  $(z, t)$  est fixé dans  $\Delta_1 = [0, 1] \times [-\pi, \pi]$ , la variable  $r$  est comprise entre 0 et  $z$ . On calcule tout d'abord

$$I_r(z, t) = \int_0^z \frac{r^3}{2} |\sin 2t| z dr = \left[ \frac{r^4}{8} |\sin 2t| z \right]_{r=0}^{r=z} = \frac{z^5}{8} |\sin 2t|.$$

Alors

$$I = \iint_{\Delta_1} I_r(z, t) dz dt.$$



Comme les variables se séparent, on a immédiatement

$$I = \left( \int_{-\pi}^{\pi} |\sin 2t| dt \right) \left( \int_0^1 \frac{z^5}{8} dz \right)$$

Comme la fonction qui à  $t$  associe  $|\sin 2t|$  est de période  $\pi/2$

$$\int_{-\pi}^{\pi} |\sin 2t| dt = 4 \int_0^{\pi/2} \sin 2t dt = [-2 \cos 2t]_0^{\pi/2} = 4$$

Par ailleurs,

$$\int_0^1 z^5 dz = \frac{1}{6}$$

d'où

$$I = \frac{1}{12}$$

**Théorème 8** (Changement de variables en coordonnées sphériques).

Si

$$\begin{cases} x = r \sin \varphi \cos \theta \\ y = r \sin \varphi \sin \theta \\ z = r \cos \varphi \end{cases}$$

$dx dy dz$  devient  $r^2 \sin \varphi dr d\theta d\varphi$

**Exemple 12.**

Calculons

$$I = \iiint_D f(x, y, z) dx dy dz$$

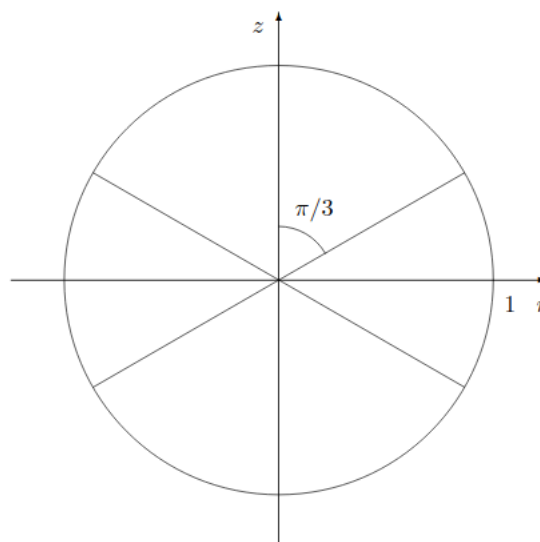
où  $D$  est le domaine intérieur à la sphère de centre  $O$  et de rayon 1, et extérieur au cône de révolution d'axe  $Oz$  et de demi-angle au sommet  $\pi/3$ , et

$$f(x, y, z) = \frac{x^2 + y^2}{x^2 + y^2 + z^2}.$$

On utilise les coordonnées sphériques

$$x = \rho \sin \varphi \cos \theta, \quad y = \rho \sin \varphi \sin \theta, \quad z = \rho \cos \varphi$$

Le dessin suivant représente une coupe suivant ( $Oz$ ) de  $D$



On intègre sur le domaine

$$\Delta = ]0, 1] \times [0, 2\pi] \times \left[ \frac{\pi}{3}, \frac{2\pi}{3} \right]$$

et

$$f(\rho \sin \varphi \cos \theta, \rho \sin \varphi \sin \theta, \rho \cos \varphi) = \sin^2 \varphi$$

Alors

$$I = \iiint_{\Delta} f(\rho \cos \theta \cos \varphi, \rho \sin \theta \cos \varphi, \rho \sin \varphi) \rho^2 \sin \varphi d\rho d\theta d\varphi = \iiint_{\Delta} \rho^2 \sin^3 \varphi d\rho d\theta d\varphi$$

Comme les variables se séparent, on a immédiatement

$$\begin{aligned} I &= \left( \int_0^1 \rho^2 d\rho \right) \left( \int_0^{2\pi} d\theta \right) \left( \int_{\frac{\pi}{3}}^{\frac{2\pi}{3}} \sin^3 \varphi d\varphi \right) \\ &= \frac{2\pi}{3} \left[ \frac{1}{12} \cos(3\varphi) - \frac{3}{4} \cos(\varphi) \right]_{\frac{\pi}{3}}^{\frac{2\pi}{3}} \\ &= \frac{2\pi}{3} \left( \frac{2}{12} + \frac{3}{4} \right) \\ I &= \frac{11\pi}{18} \end{aligned}$$

### 3 Applications

Si  $D$  est un domaine borné de  $\mathbb{R}^2$ , l'intégrale

$$\iint_D dx dy$$

représente le volume de la portion d'espace comprise entre le graphe de la fonction constante  $f(x, y) = 1$  et le plan  $xOy$ . Ce solide est un cylindre de hauteur 1 et de base  $D$ , son volume est donc égal à l'aire de  $D$  multipliée par la hauteur, qui vaut 1.

#### Proposition 2 (Aire).

Soit  $D$  un domaine borné de  $\mathbb{R}^2$ .

- En général, on a

$$\text{Aire}(D) = \iint_D dx dy.$$

- Si  $D$  est la portion du plan comprise entre l'axe  $Ox$  et le graphe d'une fonction positive

$$f : [a, b] \longrightarrow \mathbb{R},$$

c'est-à-dire si

$$D = \{ (x, y) \in \mathbb{R}^2 \mid x \in [a, b], y \in [0, f(x)] \},$$

alors on a :

$$\text{Aire}(D) = \int_a^b f(x) dx.$$

En effet, si

$$D = \{ (x, y) \mid x \in [a, b], y \in [0, f(x)] \},$$

on a

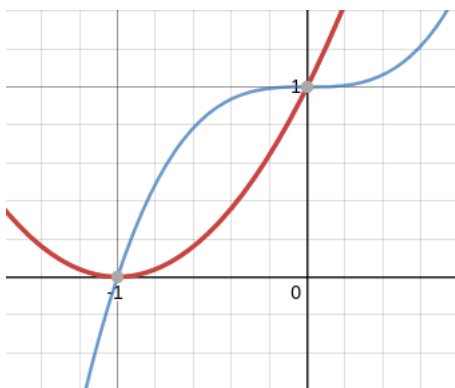
$$\text{Aire}(D) = \iint_D dx dy = \int_a^b \int_0^{f(x)} dy dx = \int_a^b \left( \left[ y \right]_0^{f(x)} \right) dx = \int_a^b f(x) dx.$$

### Exemple 13.

Calculons l'aire du domaine  $D$  de  $\mathbb{R}^2$  délimité par les courbes d'équation

$$y = x^2 + 2x + 1 \quad \text{et} \quad y = x^3 + 1.$$

D'abord on dessine le domaine  $D$  : la courbe  $y = x^3 + 1$  n'est rien d'autre que  $y = x^3$  translaté vers le haut de 1, et la courbe  $y = x^2 + 2x + 1 = (x + 1)^2$  est une parabole orientée vers le haut et centrée au point  $x + 1 = 0$  et  $y = 0$ , c'est-à-dire au point  $(-1, 0)$ . Les deux courbes se rencontrent aux points  $(-1, 0)$  et  $(0, 1)$ .



On a donc

$$D = \{(x, y) \in \mathbb{R}^2 \mid -1 \leq x \leq 0, x^2 + 2x + 1 \leq y \leq x^3 + 1\}.$$

Donc

$$\begin{aligned} \text{Aire}(D) &= \iint_D dx \, dy = \int_{-1}^0 \int_{x^2+2x+1}^{x^3+1} dy \, dx = \int_{-1}^0 \left( \left[ y \right]_{x^2+2x+1}^{x^3+1} \right) dx \\ &= \int_{-1}^0 (x^3 + 1 - x^2 - 2x - 1) \, dx = \int_{-1}^0 (x^3 - x^2 - 2x) \, dx \\ &= \left[ \frac{1}{4}x^4 - \frac{1}{3}x^3 - x^2 \right]_{-1}^0 \\ &= 0 - \frac{1}{4}(-1)^4 + \frac{1}{3}(-1)^3 + (-1)^2 \\ \text{Aire}(D) &= \frac{5}{12}. \end{aligned}$$

### Exemple 14.

Calculons l'intégrale

$$\iint_D (x^2 - 2y) \, dx \, dy,$$

où  $D$  est le domaine de l'exercice précédent.

$$\begin{aligned} \iint_D (x^2 - 2y) \, dx \, dy &= \int_{-1}^0 \int_{x^2+2x+1}^{x^3+1} (x^2 - 2y) \, dy \, dx \\ &= \int_{-1}^0 \left[ x^2 y - y^2 \right]_{x^2+2x+1}^{x^3+1} dx \\ &= \int_{-1}^0 \left( x^2(x^3 + 1) - (x^3 + 1)^2 - x^2(x^2 + 2x + 1) + (x^2 + 2x + 1)^2 \right) dx \\ &= \int_{-1}^0 \left( -x^6 + x^5 + 6x^2 + 4x \right) dx \\ &= \left[ -\frac{1}{7}x^7 + \frac{1}{6}x^6 + 2x^3 + 2x^2 \right]_{-1}^0 \\ \iint_D (x^2 - 2y) \, dx \, dy &= \frac{13}{42} \end{aligned}$$

**Proposition 3** (Volume).

Soit  $\Omega$  un domaine borné de  $\mathbb{R}^3$ .

- En général, on a
- Si  $\Omega$  est la portion d'espace comprise entre le plan  $xOy$  et le graphe d'une fonction positive

$$f : D \subset \mathbb{R}^2 \longrightarrow \mathbb{R},$$

c'est-à-dire si

$$\Omega = \{ (x, y, z) \mid (x, y) \in D \subset \mathbb{R}^2, z \in [0, f(x, y)] \},$$

alors on a

$$\text{Vol}(\Omega) = \iint_D f(x, y) \, dx \, dy$$

En effet, si

$$\Omega = \{ (x, y, z) \mid (x, y) \in D \subset \mathbb{R}^2, z \in [0, f(x, y)] \},$$

on a

$$\begin{aligned} \text{Vol}(\Omega) &= \iiint_{\Omega} dx \, dy \, dz \\ &= \iint_D \left( \int_0^{f(x, y)} dz \right) dx \, dy \\ &= \iint_D \left( \left[ z \right]_0^{f(x, y)} \right) dx \, dy \\ \text{Vol}(\Omega) &= \iint_D f(x, y) \, dx \, dy. \end{aligned}$$

**Exemple 15** (Volume de la boule en coordonnées sphériques).

En coordonnées sphériques, la boule

$$B = \{ (x, y, z) \in \mathbb{R}^3 \mid x^2 + y^2 + z^2 \leq 1 \}$$

devient

$$B' = \{ (r, \varphi, \theta) \mid r \in [0, 1], \varphi \in [0, 2\pi[, \theta \in [0, \pi] \},$$

et, puisque

$$dx \, dy \, dz = r^2 \sin \theta \, dr \, d\varphi \, d\theta,$$

on a

$$\begin{aligned} \text{Vol}(B) &= \iiint_B dx \, dy \, dz \\ &= \iiint_{[0, 1] \times [0, 2\pi[ \times [0, \pi]} r^2 \sin \theta \, dr \, d\varphi \, d\theta \\ &= \int_0^1 r^2 \, dr \int_0^{2\pi} d\varphi \int_0^\pi \sin \theta \, d\theta \\ &= \frac{1}{3} 2\pi \left[ -\cos \theta \right]_0^\pi \\ \text{Vol}(B) &= \frac{4\pi}{3}. \end{aligned}$$

**Proposition 4** (Quantités totale et moyenne).

Si  $f \geq 0$  denote la concentration d'une matière (densité volumique) dans un volume  $\Omega \subset \mathbb{R}^3$ , ou la densité d'un courant ou d'une énergie, alors

la quantité totale de matière / courant présente en  $\Omega$  est égale à

$$\iiint_{\Omega} f(x, y, z) \, dx \, dy \, dz.$$

la quantité moyenne de matière / courant présente en  $\Omega$  est égale à

$$\frac{1}{\text{Vol}(\Omega)} \iiint_{\Omega} f(x, y, z) dx dy dz.$$

**Exemple 16.**

Un matériau est distribué dans le cube  $\Omega = [0, R]^3$  selon la densité volumique

$$f(x, y, z) = \frac{x + y}{(z + 1)^2}.$$

La quantité totale du matériau est alors

$$\begin{aligned} \iiint_{\Omega} f(x, y, z) dx dy dz &= \int_0^R \left( \int_0^R (x + y) \left( \int_0^R \frac{1}{(z + 1)^2} dz \right) dy \right) dx \\ &= \int_0^R \left( \int_0^R (x + y) \left( \left[ -\frac{1}{z + 1} \right]_0^R \right) dy \right) dx \\ &= \int_0^R \left( \int_0^R (x + y) \left( \frac{-1}{R + 1} + 1 \right) dy \right) dx \\ &= \frac{R}{R + 1} \int_0^R \left( \left[ xy + \frac{1}{2} y^2 \right]_0^R \right) dx = \frac{R}{R + 1} \int_0^R \left( Rx + \frac{1}{2} R^2 \right) dx \\ &= \frac{R}{R + 1} \left[ \frac{1}{2} Rx^2 + \frac{1}{2} R^2 x \right]_0^R = \frac{R}{R + 1} \left( \frac{1}{2} R^3 + \frac{1}{2} R^3 \right) \\ \iiint_{\Omega} f(x, y, z) dx dy dz &= \frac{R^4}{R + 1}. \end{aligned}$$

et puisque  $\text{Vol}(\Omega) = R^3$ , le volume moyen du matériau dans le cube est

$$\frac{1}{\text{Vol}(\Omega)} \iiint_{\Omega} f(x, y, z) dx dy dz = \frac{1}{R^3} \frac{R^4}{R + 1} = \frac{R}{R + 1}.$$

**Proposition 5** (Centre de masse).

Si  $\mu \geq 0$  denote la densité de masse, et  $r(x, y, z)$  denote la distance d'un point  $(x, y, z)$  depuis un point fixe  $P$  ou une droite fixe  $\Delta$ , alors

La masse totale : présente en  $\Omega$  est

$$M = \iiint_{\Omega} \mu(x, y, z) dx dy dz.$$

Le centre de masse : (ou centre d'inertie, ou encore baricentre) est le point  $G$  de coordonnées  $(x_G, y_G, z_G)$  telles que

$$\begin{aligned} x_G &= \frac{1}{M} \iiint_{\Omega} x \mu(x, y, z) dx dy dz \\ y_G &= \frac{1}{M} \iiint_{\Omega} y \mu(x, y, z) dx dy dz \\ z_G &= \frac{1}{M} \iiint_{\Omega} z \mu(x, y, z) dx dy dz \end{aligned}$$

Le moment d'inertie par rapport à  $P$  ou à  $\Delta$  est

$$\frac{1}{M} \iiint_{\Omega} r^2(x, y, z) \mu(x, y, z) dx dy dz.$$

Un matériau est **homogène** si sa densité de masse est constante. Si cette constante n'est pas spécifiée, on peut supposer que  $\mu(x, y, z) = 1$  pour tout  $(x, y, z)$ .

### Exemple 17.

Trouvons le centre de masse du demi-cylindre homogène

$$\Omega = \{ (x, y, z) \in \mathbb{R}^3 \mid x^2 + y^2 \leq R^2, z \in [0, H], y \geq 0 \}.$$

Il convient de travailler en coordonnées cylindriques

$$\Omega' = \{ (\rho, \varphi, z) \mid \rho \in [0, R], \varphi \in [0, \pi], z \in [0, H] \}.$$

La masse totale est alors

$$M = \iiint_{\Omega} dx dy dz = \iiint_{\Omega'} \rho d\rho d\varphi dz = \int_0^R \rho d\rho \int_0^{\pi} d\varphi \int_0^H dz = \frac{\pi R^2 H}{2}.$$

Puisque

$$\int_0^{\pi} \cos \varphi d\varphi = \left[ \sin \varphi \right]_0^{\pi} = 0,$$

et

$$\int_0^{\pi} \sin \varphi d\varphi = \left[ -\cos \varphi \right]_0^{\pi} = 2,$$

le centre de masse  $G$  a coordonnées cartésiennes

$$\begin{aligned} x_G &= \frac{1}{M} \iiint_{\Omega} x dx dy dz = \frac{1}{M} \iiint_{\Omega'} \rho \cos \varphi \rho d\rho d\varphi dz \\ &= \frac{1}{M} \int_0^R \rho^2 d\rho \int_0^{\pi} \cos \varphi d\varphi \int_0^H dz = 0 \\ y_G &= \frac{1}{M} \iiint_{\Omega} y dx dy dz = \frac{1}{M} \int_0^R \rho^2 d\rho \int_0^{\pi} \sin \varphi d\varphi \int_0^H dz = \frac{2}{\pi R^2 H} \frac{R^3}{3} 2 H = \frac{4R}{3\pi} \\ z_G &= \frac{1}{M} \iiint_{\Omega} z dx dy dz = \frac{1}{M} \int_0^R \rho d\rho \int_0^{\pi} d\varphi \int_0^H z dz = \frac{2}{\pi R^2 H} \frac{R^2}{2} \pi \frac{H^2}{2} = \frac{H}{2} \end{aligned}$$

donc

$$G = \left( 0, \frac{4R}{3\pi}, \frac{H}{2} \right).$$

### Exemple 18.

Un sac de farine tombe par terre et la farine s'éparpille au sol avec une concentration non homogène

$$f(x, y) = \frac{1}{\left( \sqrt{x^2 + y^2} + 1 \right)^2}$$

pour tout  $(x, y) \in \mathbb{R}^2$ . Calculons les quantités totale et moyenne de farine éparpillée dans le disque de rayon  $R > 0$  autour du sac. La fonction  $f$  se simplifie en coordonnées polaires, car on a

$$f(\rho, \varphi) = \frac{1}{(\rho + 1)^2}$$

et le disque en coordonnées polaires est

$$D_R = \{ (\rho, \varphi) \mid \rho \in [0, R], \varphi \in [0, 2\pi[ \}.$$

On a alors

$$\begin{aligned}
 \text{Quantité totale} &= \iint_{D_R} \frac{1}{(\rho+1)^2} \rho \, d\rho \, d\varphi \\
 &= \int_0^{2\pi} d\varphi \int_0^R \left( \frac{\rho+1}{(\rho+1)^2} - \frac{1}{(\rho+1)^2} \right) d\rho \\
 &= 2\pi \int_0^R \left( \frac{1}{\rho+1} - \frac{1}{(\rho+1)^2} \right) d\rho \\
 &= 2\pi \left[ \ln(\rho+1) + \frac{1}{\rho+1} \right]_0^R \\
 &= 2\pi \left( \ln(R+1) + \frac{1}{R+1} - \ln(1) - 1 \right) \\
 \text{Quantité totale} &= 2\pi \left( \ln(R+1) - \frac{R}{R+1} \right)
 \end{aligned}$$

$$\text{Aire}(D_R) = \iint_{D_R} \rho \, d\rho \, d\varphi = \int_0^R \rho \, d\rho \int_0^{2\pi} d\varphi = \frac{R^2}{2} 2\pi = \pi R^2$$

$$\begin{aligned}
 \text{Quantité moyenne} &= \frac{1}{\text{Aire}(D_R)} \iint_{D_R} \frac{1}{(\rho+1)^2} \rho \, d\rho \, d\varphi \\
 &= \frac{1}{\pi R^2} 2\pi \left( \ln(R+1) - \frac{R}{R+1} \right) \\
 \text{Quantité moyenne} &= \frac{2}{R^2} \left( \ln(R+1) - \frac{R}{R+1} \right)
 \end{aligned}$$

### Exemple 19.

Calculons le centre de masse du solide  $\Omega$  composé de la demi-boule  $B$  et du cylindre  $C$  suivants

$$\begin{aligned}
 B &= \left\{ (r, \varphi, \theta) \mid r \in [0, R], \varphi \in [0, 2\pi], \theta \in [\pi/2, \pi] \right\} \\
 C &= \left\{ (\rho, \varphi, z) \mid \rho \in [0, R], \varphi \in [0, 2\pi], z \in [0, R] \right\},
 \end{aligned}$$

ayant densité de masse  $\mu(x, y, z) = z^2$ . La masse totale de  $\Omega$  est

$$M_\Omega = M_B + M_C$$

avec  $\mu(x, y, z) = r^2 \cos^2 \theta$  sur  $B$ . On a donc

$$\begin{aligned}
 M_B &= \iiint_B r^2 \cos^2 \theta \, r^2 \sin \theta \, dr \, d\varphi \, d\theta = \int_0^R r^4 \, dr \int_0^{2\pi} d\varphi \int_{\pi/2}^\pi \cos^2 \theta \sin \theta \, d\theta \\
 &= \frac{R^5}{5} 2\pi \left[ -\frac{1}{3} \cos^3 \theta \right]_{\pi/2}^\pi = \frac{2\pi R^5}{15} \\
 M_C &= \iiint_{C_R} z^2 \rho \, d\rho \, d\varphi \, dz = \int_0^R \rho \, d\rho \int_0^{2\pi} d\varphi \int_0^R z^2 \, dz = \frac{R^2}{2} 2\pi \frac{R^3}{3} = \frac{\pi R^5}{3} \\
 M_\Omega &= M_B + M_C = \left( \frac{2}{15} + \frac{1}{3} \right) \pi R^5 = \frac{7\pi R^5}{15}.
 \end{aligned}$$

Puisque

$$\int_0^{2\pi} \cos \varphi \, d\varphi = 0 \quad \text{et} \quad \int_0^{2\pi} \sin \varphi \, d\varphi = 0,$$

les coordonnées cartésiennes du baricentre  $G$  de  $\Omega$  sont

$$\begin{aligned} x_G &= \frac{1}{M_\Omega} \iiint_{\Omega} x \mu(x, y, z) dx dy dz \\ &= \frac{1}{M_\Omega} \int_0^R r^5 dr \int_0^{2\pi} \cos \varphi d\varphi \int_{\pi/2}^{\pi} \cos^2 \theta \sin^2 \theta d\theta \\ &\quad + \frac{1}{M_\Omega} \int_0^R \rho^2 d\rho \int_0^{2\pi} \cos \varphi d\varphi \int_0^R z^2 dz \\ x_G &= 0 \end{aligned}$$

$$\begin{aligned} y_G &= \frac{1}{M_\Omega} \int_0^R r^5 dr \int_0^{2\pi} \sin \varphi d\varphi \int_{\pi/2}^{\pi} \cos^2 \theta \sin^2 \theta d\theta \\ &\quad + \frac{1}{M_\Omega} \int_0^R \rho^2 d\rho \int_0^{2\pi} \sin \varphi d\varphi \int_0^R z^2 dz \\ y_G &= 0 \end{aligned}$$

$$\begin{aligned} z_G &= \frac{1}{M_\Omega} \iiint_{\Omega} z^3 dx dy dz \\ &= \frac{1}{M_\Omega} \int_0^R r^5 dr \int_0^{2\pi} d\varphi \int_{\pi/2}^{\pi} \cos^3 \theta \sin \theta d\theta \\ &\quad + \frac{1}{M_\Omega} \int_0^R \rho d\rho \int_0^{2\pi} d\varphi \int_0^R z^3 dz \\ &= \frac{15}{7\pi R^3} \left( \frac{R^6}{6} 2\pi \left[ -\frac{1}{4} \cos^4 \theta \right]_{\pi/2}^{\pi} + \frac{R^2}{2} 2\pi \frac{R^4}{4} \right) \\ &= \frac{15\pi R^6}{7\pi R^3} \left( -\frac{1}{3} \frac{1}{4} + \frac{1}{4} \right) \\ &= \frac{15R^3}{7} \frac{-1+3}{12} \\ z_G &= \frac{5R^3}{14}. \end{aligned}$$

En conclusion, le baricentre

$$G = \left( 0, 0, \frac{5R^3}{14} \right)$$

se trouve dans la partie cylindrique, car

$$\frac{5R^3}{14} > 0.$$

À noter que le baricentre se trouve à l'intérieur de  $\Omega$  seulement si

$$\frac{5R^3}{14} \leq R,$$

ce qui se vérifie si

$$R \leq \sqrt{14/5}.$$

## 4 Exercices

### Exercice 1

Calculer

$$I = \iint_D f(x, y) dx dy$$



où  $D$  est le rectangle de sommets  $O, A(\pi, 0), B(0, 1), C(\pi, 1)$  et

$$f(x, y) = 2y \sin x.$$

Correction ▼

[09.0002]

## Exercice 2

Calculer

$$I = \iint_D f(x, y) dx dy$$

où  $D$  est le triangle de sommets  $O, A(1, 0), B(1, 1)$  et

$$f(x, y) = x - y$$

Correction ▼

[09.0003]

## Exercice 3

Calculer

$$I = \iint_D f(x, y) dx dy$$

où  $D$  est le triangle de sommets  $O, A(1, 0), B(0, 1)$  et

$$f(x, y) = x^2 y$$

Correction ▼

[09.0005]

## Exercice 4

Calculer

$$I = \iint_D f(x, y) dx dy$$

où  $D$  est le triangle de sommets  $O, A(2, 0), B(0, 2)$  et

$$f(x, y) = x e^x \sin y$$

Correction ▼

[09.0006]

## Exercice 5

Calculer

$$I = \iint_D f(x, y) dx dy$$

où  $D$  est le triangle de sommets  $A(1, 0), B(0, 1), C(0, -1)$  et

$$f(x, y) = x + 2y.$$

Correction ▼

[09.0001]

## Exercice 6

Calculer

$$I = \iint_D f(x, y) dx dy$$

où

$$D = \{(x, y) \in \mathbb{R}^2 ; |x| \leq a, |y| \leq b\}$$

et

$$f(x, y) = (x + y)e^{x-y}$$

Correction ▼

[09.0007]

## Exercice 7

Calculer

$$I = \iint_D f(x, y) dx dy$$

où  $D$  est le trapèze dont la base est le segment de l'axe des  $x$  dont les abscisses sont comprises entre -1 et 1 et dont les trois autres côtés sont situés dans le demi-plan des  $y$  positifs et de longueur 1, et

$$f(x, y) = y$$

Correction ▼

[09.0008]

## Exercice 8

Calculer

$$I = \iint_D f(x, y) dx dy$$

où  $D$  est l'ensemble des points du plan qui vérifient les inégalités

$$\sqrt{x} + \sqrt{y} \geq 1 \quad \text{et} \quad \sqrt{1-x} + \sqrt{1-y} \geq 1$$

et

$$f(x, y) = (x - y)^2$$

Correction ▼

[09.0009]

## Exercice 9

Calculer

$$I = \iint_D f(x, y) dx dy$$

où

$$D = \left\{ (x, y) \in \mathbb{R}^2 \left| 0 \leq x \leq 1 - \frac{y^2}{4} \right. \right\}$$

et

$$f(x, y) = x^2 + y^2$$

Correction ▼

[09.0010]

## Exercice 10

Calculer

$$I = \iint_D f(x, y) dx dy$$

où  $D$  est l'ensemble des points du disque de centre  $O$  et de rayon 1, tels que  $x + y \geq 1$  et

$$f(x, y) = \frac{xy}{(x^2 + y^2)^2}$$

Correction ▼

[09.0011]

## Exercice 11

Calculer

$$I = \iint_D f(x, y) dx dy$$

où  $D$  est l'intersection des disques limités par les cercles d'équations réespectives

$$x^2 + y^2 - 2Rx = 0 \quad \text{et} \quad x^2 + y^2 - 2Ry = 0,$$

et

$$f(x, y) = x^2 - y^2.$$

Correction ▼

[09.0012]

## Exercice 12

Calculer

$$I = \iint_D f(x, y) dx dy$$

où  $D$  est le disque de centre  $O$  et de rayon  $a$  et

$$f(x, y) = (x + y)^2$$

Correction ▼

[09.0013]

## Exercice 13

Calculer

$$I = \iint_D f(x, y) dx dy$$

où  $D$  est le quart de cercle de centre  $O$  et de rayon  $b$ , situé dans le quart de plan des coordonnées positives, privé de l'origine, et

$$f(x, y) = \frac{1}{x + y}.$$

Correction ▼

[09.0014]

## Exercice 14

Calculer

$$I = \iint_D f(x, y) dx dy$$

où

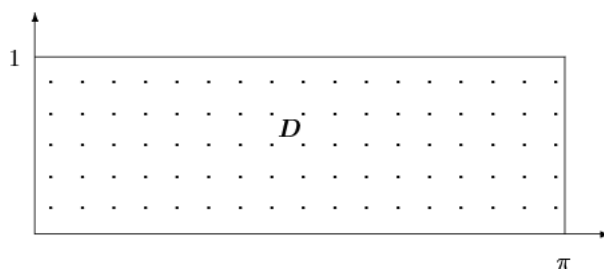
$$D = \left\{ (x, y) \mid y \geq 0, x^2 + y^2 - x \geq 0, x^2 + y^2 - 2x \leq 0 \right\} \setminus \{(0, 0)\},$$

et

$$f(x, y) = \frac{x - y}{x^2 + y^2}.$$



### Correction de l'exercice 1 ▲

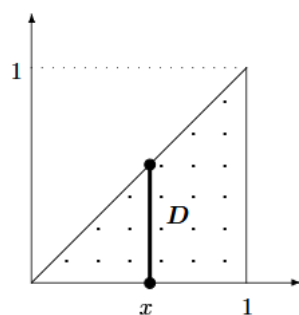


Comme on intègre sur un rectangle une fonction dont les variables se séparent, on a immédiatement :

$$I = \left( \int_0^\pi \sin x dx \right) \left( \int_0^1 2y dy \right) = [-\cos x]_0^\pi [y^2]_0^1 = 2$$


---

### Correction de l'exercice 2 ▲



La droite  $OB$  a pour équation

$$y = x$$

Lorsque  $x$  est compris entre 0 et 1 , le nombre  $y$  varie de 0 à  $x$ . Donc

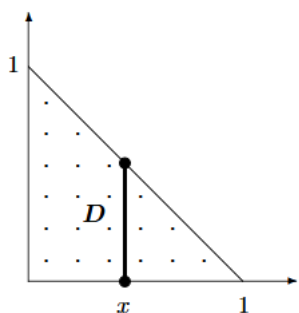
$$I_y(x) = \int_0^x (x - y) dy = \left[ -\frac{(x - y)^2}{2} \right]_{y=0}^{y=x} = \frac{x^2}{2}$$

On a alors

$$I = \int_0^1 I_y(x) dx = \frac{1}{2} \int_0^1 x^2 dx = \left[ \frac{x^3}{6} \right]_0^1 = \frac{1}{6}.$$


---

### Correction de l'exercice 3 ▲



La droite  $AB$  a pour équation

$$y = 1 - x$$

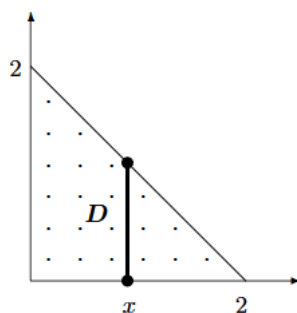
Lorsque  $x$  est compris entre 0 et 1, le nombre  $y$  varie de 0 à  $1 - x$ . Donc

$$I_y(x) = \int_0^{1-x} yx^2 dy = x^2 \left[ \frac{y^2}{2} \right]_{y=0}^{y=1-x} = \frac{x^2(x-1)^2}{2}$$

On a alors

$$I = \int_0^1 I_y(x) dx = \frac{1}{2} \int_0^1 (x^4 - 2x^3 + x^2) dx = \frac{1}{2} \left[ \frac{x^5}{5} - \frac{x^4}{2} + \frac{x^3}{3} \right]_0^1 = \frac{1}{2} \left( \frac{1}{5} - \frac{1}{2} + \frac{1}{3} \right) = \frac{1}{60}$$

#### Correction de l'exercice 4 ▲



La droite  $AB$  a pour équation

$$y = 2 - x$$

Lorsque  $x$  est compris entre 0 et 2, le nombre  $y$  varie de 0 à  $2 - x$ . Donc

$$I_y(x) = \int_0^{2-x} xe^x \sin y dy = xe^x [-\cos y]_{y=0}^{y=2-x} = xe^x (1 - \cos(x-2)).$$

Alors

$$I = \int_0^2 I_y(x) dx = \int_0^2 xe^x dx - \int_0^2 xe^x \cos(x-2) dx.$$

En intégrant par parties, on obtient tout d'abord

$$\int_0^2 xe^x dx = [xe^x]_0^2 - \int_0^2 e^x dx = [(x-1)e^x]_0^2 = e^2 + 1$$

D'autre part

$$\int_0^2 xe^x \cos(x-2) dx = \operatorname{Re} \int_0^2 xe^x e^{i(x-2)} dx = \operatorname{Re} \left( e^{-2i} \int_0^2 xe^{(1+i)x} dx \right)$$

On intègre de nouveau par parties ce qui donne

$$\int_0^2 xe^{(1+i)x} dx = \left[ x \frac{e^{(1+i)x}}{1+i} \right]_0^2 - \int_0^2 \frac{e^{(1+i)x}}{1+i} dx = \left[ x \frac{e^{(1+i)x}}{1+i} - \frac{e^{(1+i)x}}{(1+i)^2} \right]_0^2$$

Mais

$$\frac{1}{1+i} = \frac{1-i}{2} \quad \text{et} \quad \frac{1}{(1+i)^2} = \left[ \frac{1-i}{2} \right]^2 = -\frac{i}{2}$$

d'où

$$\int_0^2 x e^{(1+i)x} dx = \frac{1}{2} \left[ x(1-i)e^{(1+i)x} + i e^{(1+i)x} \right]_0^2 = \frac{1}{2} \left[ ((1-i)x + i) e^{(1+i)x} \right]_0^2 = \frac{1}{2} \left( (2-i)e^{2+2i} - i \right)$$

Alors

$$e^{-2i} \int_0^2 x e^{(1+i)x} dx = \frac{1}{2} \left( (2-i)e^2 - i e^{-2i} \right)$$

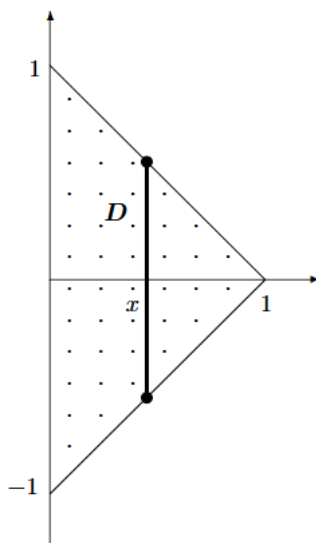
et

$$\operatorname{Re} \left( e^{-2i} \int_0^2 x e^{(1+i)x} dx \right) = e^2 - \frac{\sin 2}{2}$$

Finalement

$$I = e^2 + 1 - \left( e^2 - \frac{\sin 2}{2} \right) = 1 + \frac{\sin 2}{2}.$$

### Correction de l'exercice 5 ▲



Les droites  $AB$  et  $AC$  ont pour équations respectives

$$y = 1 - x \quad \text{et} \quad y = -1 + x$$

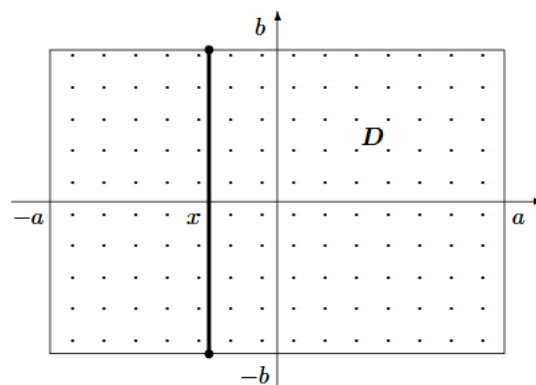
Lorsque  $x$  est compris entre 0 et 1, le nombre  $y$  varie de  $x - 1$  à  $1 - x$ . Donc

$$I_y(x) = \int_{x-1}^{1-x} (x + 2y) dy = \left[ xy + y^2 \right]_{y=x-1}^{y=1-x} = x(1-x) + (x-1)^2 - \left( x(x-1) + (x-1)^2 \right) = 2x(1-x).$$

On a alors

$$I = \int_0^1 I_y(x) dx = \int_0^1 (2x - 2x^2) dx = \left[ x^2 - \frac{2x^3}{3} \right]_0^1 = 1 - \frac{2}{3} = \frac{1}{3}.$$

## Correction de l'exercice 6 ▲



On intègre sur un rectangle. Lorsque  $x$  est compris entre  $-a$  et  $a$ , l'ordonnée  $y$  varie de  $-b$  à  $b$ . Donc

$$I_y(x) = \int_{-b}^b (x+y)e^{x-y} dy$$

En intégrant par parties

$$I_y(x) = \left[ -(x+y)e^{x-y} \right]_{y=-b}^{y=b} + \int_{-b}^b e^{x-y} dy = \left[ -(x+y+1)e^{x-y} \right]_{y=-b}^{y=b} = -(x+b+1)e^{x-b} + (x-b+1)e^{x+b}$$

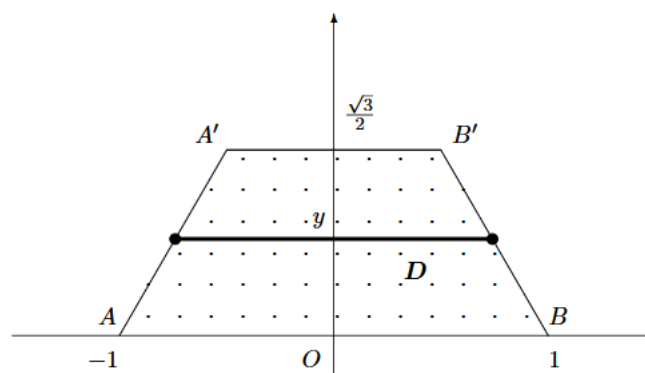
On a alors

$$I = \int_{-a}^a I_y(x) dx = \int_{-a}^a \left[ (x-b+1)e^{x+b} - (x+b+1)e^{x-b} \right] dx.$$

En intégrant de nouveau par parties

$$\begin{aligned} I &= \left[ (x-b+1)e^{x+b} \right]_{-a}^{+a} - \int_{-a}^a e^{x+b} dx - \left( \left[ (x+b+1)e^{x-b} \right]_{-a}^{+a} - \int_{-a}^a e^{x-b} dx \right) \\ &= \left[ (x-b)e^{x+b} \right]_{-a}^{+a} - \left[ (x+b)e^{x-b} \right]_{-a}^{+a} \\ &= (a-b)e^{a+b} + (a+b)e^{b-a} - (a+b)e^{a-b} + (b-a)e^{-(a+b)} \\ &= (a-b) \left( e^{a+b} - e^{-(a+b)} \right) + (a+b) \left( e^{b-a} - e^{a-b} \right) \\ &= 2(a-b) \operatorname{sh}(a+b) + 2(a+b) \operatorname{sh}(b-a) \end{aligned}$$

## Correction de l'exercice 7 ▲





Si l'on note  $A(-1,0), B(1,0)$  et  $A'$  et  $B'$  les autres sommets du trapèze, on a  $AA' = A'B' = BB' = 1$ . Les triangles  $OBB', OB'A'$  et  $OAA'$  sont équilatéraux. Alors la droite passant par  $A'$  et  $B'$  a pour équation

$$y = \sin \frac{\pi}{3} = \frac{\sqrt{3}}{2}$$

la droite passant par  $B$  et  $B'$  a pour équation

$$y = -\tan \frac{\pi}{3}(x-1) = -\sqrt{3}(x-1)$$

et celle passant par  $A$  et  $A'$  a pour équation

$$y = \sqrt{3}(x+1)$$

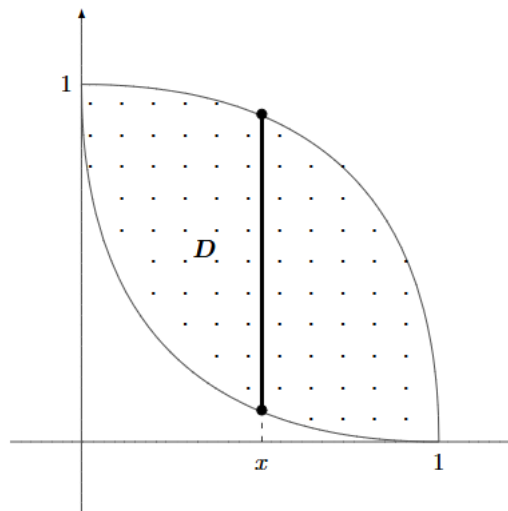
Lorsque  $y$  est fixé entre 0 et  $\frac{\sqrt{3}}{2}$ , la variable  $x$  est comprise entre  $-1 + \frac{y}{\sqrt{3}}$  et  $1 - \frac{y}{\sqrt{3}}$ , et l'on a

$$I_x(y) = y \int_{-1+y/\sqrt{3}}^{1-y/\sqrt{3}} dx = 2y \left(1 - \frac{y}{\sqrt{3}}\right)$$

Alors

$$I = \int_0^{\sqrt{3}/2} I_x(y) dy = \int_0^{\sqrt{3}/2} 2y \left(1 - \frac{y}{\sqrt{3}}\right) dy = \left[y^2 - \frac{2}{3\sqrt{3}}y^3\right]_0^{\sqrt{3}/2} = \frac{1}{2}$$

### Correction de l'exercice 8 ▲



Si  $(x, y)$  appartient à  $D$ , on a nécessairement  $0 \leq x \leq 1$  et  $0 \leq y \leq 1$ . Alors la condition

$$\sqrt{x} + \sqrt{y} \geq 1$$

équivaut à

$$\sqrt{y} \geq 1 - \sqrt{x}$$

puis à

$$y \geq (1 - \sqrt{x})^2 = 1 + x - 2\sqrt{x}$$

De même, la condition

$$\sqrt{1-x} + \sqrt{1-y} \geq 1$$

équivalent à

$$\sqrt{1-y} \geq 1 - \sqrt{1-x}$$

puis à

$$1-y \geq (1 - \sqrt{1-x})^2$$

et enfin à

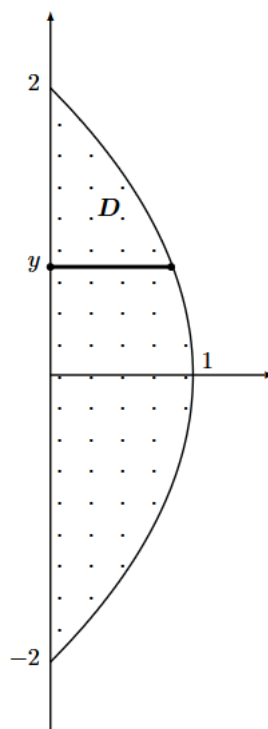
$$y \leq 1 - (1 - \sqrt{1-x})^2 = x - 1 + 2\sqrt{1-x}.$$

Pour  $x$  compris entre 0 et 1 , on calcule

$$\begin{aligned} I_y(x) &= \int_{1+x-2\sqrt{x}}^{x-1+2\sqrt{1-x}} (y-x)^2 dy \\ &= \left[ \frac{(y-x)^3}{3} \right]_{y=1+x-2\sqrt{x}}^{y=x-1+2\sqrt{1-x}} \\ &= \frac{1}{3} \left[ (2\sqrt{1-x}-1)^3 - (1-2\sqrt{x})^3 \right] \\ &= \frac{1}{3} \left[ 8 \left( x^{3/2} + (1-x)^{3/2} \right) + 6(\sqrt{x} + \sqrt{1-x}) - 14 \right]. \end{aligned}$$

Alors

$$\begin{aligned} I &= \int_0^1 I_y(x) dx \\ &= \int_0^1 \frac{1}{3} \left[ 8 \left( x^{3/2} + (1-x)^{3/2} \right) + 6(\sqrt{x} + \sqrt{1-x}) - 14 \right] dx \\ &= \frac{1}{3} \left[ \frac{16}{5} \left( x^{5/2} - (1-x)^{5/2} \right) + 4 \left( x^{3/2} - (1-x)^{3/2} \right) - 14x \right]_0^1 \\ &= \frac{1}{3} \left[ \frac{16}{5} + 4 - 14 + \frac{16}{5} + 4 \right] \\ &= \frac{2}{15}. \end{aligned}$$



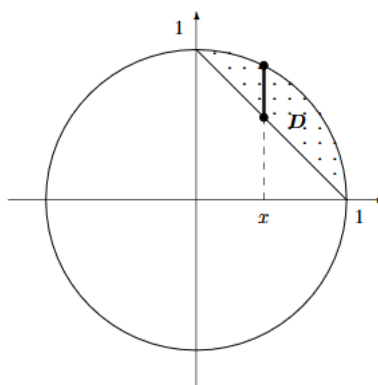
Lorsque  $y$  est compris entre -2 et 2, le nombre  $x$  varie de 0 à  $1 - \frac{y^2}{4}$ . Donc

$$I_x(y) = \int_0^{1-y^2/4} (x^2 + y^2) dx = \left[ y^2 x + \frac{x^3}{3} \right]_{x=0}^{x=1-y^2/4} = y^2 \left( 1 - \frac{y^2}{4} \right) + \frac{1}{3} \left( 1 - \frac{y^2}{4} \right)^3 = \frac{1}{3} + \frac{3y^2}{4} - \frac{3y^4}{16} - \frac{y^6}{192}$$

On a alors

$$I = \int_{-2}^2 I_x(y) dy = \int_{-2}^2 \left( \frac{1}{3} + \frac{3y^2}{4} - \frac{3y^4}{16} - \frac{y^6}{192} \right) dy = \left[ \frac{y}{3} + \frac{y^3}{4} - \frac{3y^5}{80} - \frac{y^7}{1344} \right]_{-2}^2 = \frac{96}{35}$$

### Correction de l'exercice 10 ▲



La partie supérieure du cercle a pour équation  $y = \sqrt{1 - x^2}$ . Pour  $x$  compris entre 0 et 1, le nombre  $y$  est compris entre  $1 - x$  et  $\sqrt{1 - x^2}$ . On calcule

$$I_y(x) = \int_{1-x}^{\sqrt{1-x^2}} \frac{xy}{(x^2+y^2)^2} dy = \left[ \frac{-x}{2(x^2+y^2)} \right]_{y=1-x}^{y=\sqrt{1-x^2}} = \frac{x}{2(2x^2-2x+1)} - \frac{x}{2}$$

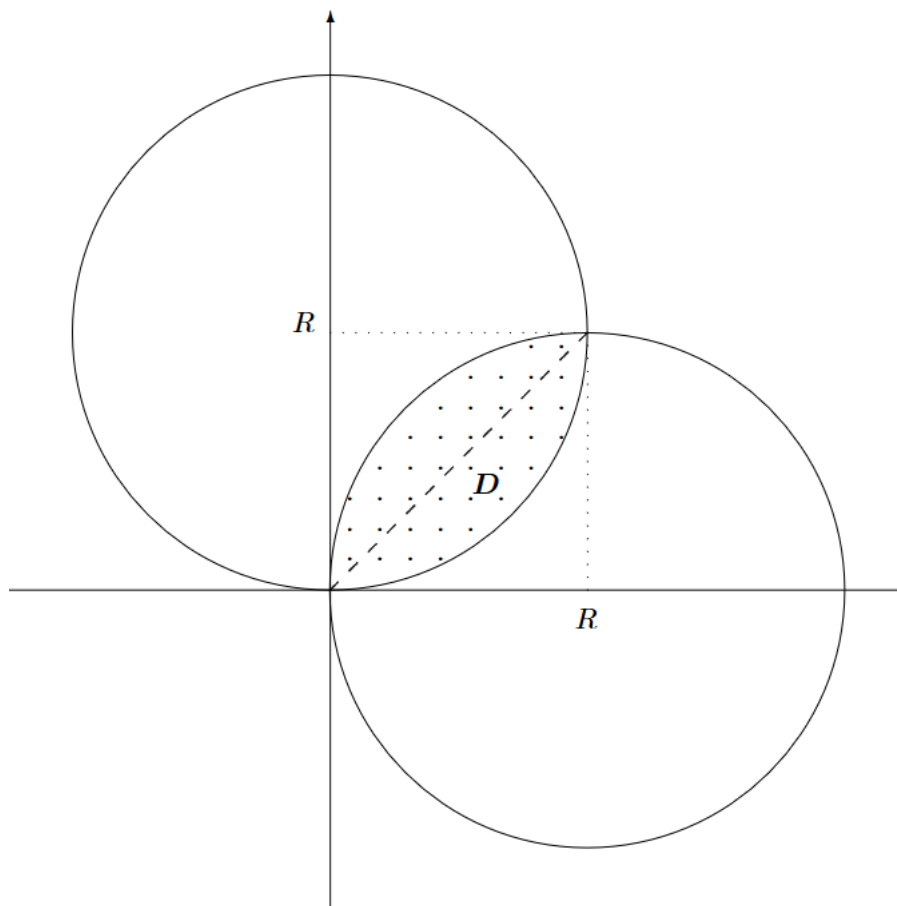
On a alors

$$I = \int_0^1 I_y(x) dx = \int_0^1 \left( \frac{x}{2(2x^2-2x+1)} - \frac{x}{2} \right) dx$$

En faisant apparaître au numérateur la dérivée du dénominateur, on obtient

$$\begin{aligned} I &= \int_0^1 \left( \frac{1}{8} \frac{4x-2}{2x^2-2x+1} + \frac{1}{4} \frac{1}{2x^2-2x+1} - \frac{x}{2} \right) dx \\ &= \left[ \frac{1}{8} \ln(2x^2-2x+1) + \frac{1}{4} \operatorname{Arctan}(2x-1) - \frac{x^2}{4} \right]_0^1 \\ &= \frac{1}{4} (\operatorname{Arctan} 1 - \operatorname{Arctan}(-1)) - \frac{1}{4} = \frac{\pi}{8} - \frac{1}{4} \end{aligned}$$

### Correction de l'exercice 11 ▲

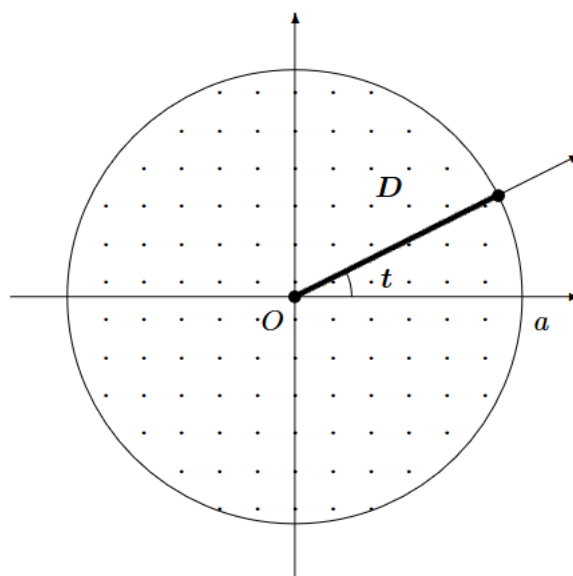


Le domaine  $D$  est symétrique par rapport à la première bissectrice. Sur  $D$ , on a

$$f(y, x) = -f(x, y)$$

Alors nécessairement  $I = 0$ .

### Correction de l'exercice 12 ▲



Le domaine  $D$  est obtenu lorsque les coordonnées polaires  $(r, t)$  parcourent le rectangle

$$\Delta = [0, a] \times [-\pi, \pi].$$

D'autre part

$$f(r \cos t, r \sin t) = (r \cos t + r \sin t)^2 = r^2(1 + \sin 2t).$$

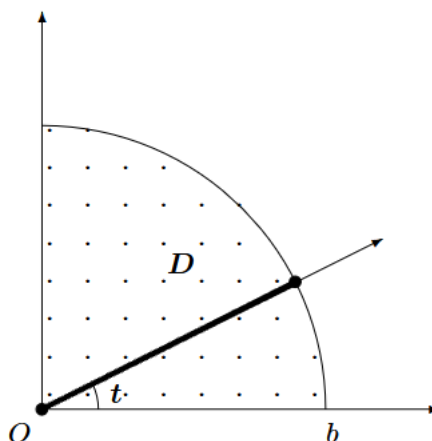
Donc

$$I = \iint_{\Delta} f(r \cos t, r \sin t) r dr dt = \iint_{\Delta} r^3 (1 + \sin 2t) dr dt.$$

Comme les variables se séparent, on a immédiatement

$$I = \left( \int_0^a r^3 dr \right) \left( \int_{-\pi}^{\pi} (1 + \sin 2t) dt \right) = \left[ \frac{r^4}{4} \right]_0^a \left[ t - \frac{\cos 2t}{2} \right]_{-\pi}^{\pi} = \frac{\pi a^4}{2}.$$

### Correction de l'exercice 13 ▲



Le domaine  $D$  est obtenu lorsque les coordonnées polaires  $(r, t)$  parcourent le rectangle

$$\Delta = ]0, b] \times [0, \pi/2].$$

D'autre part

$$f(r \cos t, r \sin t) = \frac{1}{r(\cos t + \sin t)}.$$

Donc

$$I = \iint_{\Delta} f(r \cos t, r \sin t) r dr dt = \iint_{\Delta} \frac{dr dt}{\sin t + \cos t}$$

Comme les variables se séparent, on a immédiatement

$$I = \left( \int_0^b dr \right) \left( \int_0^{\pi/2} \frac{dt}{\sin t + \cos t} \right) = b \int_0^{\pi/2} \frac{dt}{\sqrt{2} \sin(t + \frac{\pi}{4})}.$$

En écrivant

$$\sin\left(t + \frac{\pi}{4}\right) = \frac{2 \tan\left(\frac{t}{2} + \frac{\pi}{8}\right)}{1 + \tan^2\left(\frac{t}{2} + \frac{\pi}{8}\right)}$$

on obtient

$$I = \frac{b}{\sqrt{2}} \int_0^{\pi/2} \frac{1 + \tan^2\left(\frac{t}{2} + \frac{\pi}{8}\right)}{2 \tan\left(\frac{t}{2} + \frac{\pi}{8}\right)} dt = \frac{b}{\sqrt{2}} \left[ \ln \left| \tan\left(\frac{t}{2} + \frac{\pi}{8}\right) \right| \right]_0^{\pi/2} = \frac{b}{\sqrt{2}} \ln \frac{\tan \frac{3\pi}{8}}{\tan \frac{\pi}{8}}.$$

En partant de

$$1 = \tan \frac{\pi}{4} = \frac{2 \tan \frac{\pi}{8}}{1 - \tan^2 \frac{\pi}{8}}$$

on trouve que  $\tan \frac{\pi}{8}$  est la racine positive du trinôme  $X^2 + 2X - 1$ , donc

$$\tan \frac{\pi}{8} = \sqrt{2} - 1$$

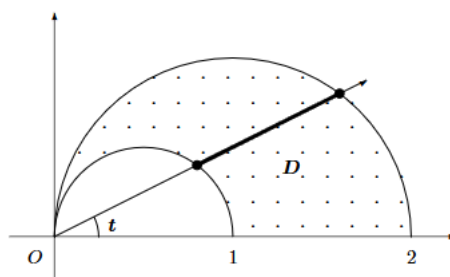
Par ailleurs

$$\tan \frac{3\pi}{8} = \tan\left(\frac{\pi}{2} - \frac{\pi}{8}\right) = \frac{1}{\tan \frac{\pi}{8}} = \sqrt{2} + 1$$

d'où

$$I = \frac{b}{\sqrt{2}} \ln(\sqrt{2} + 1)^2 = \sqrt{2} b \ln(\sqrt{2} + 1)$$

### Correction de l'exercice 14 ▲



Le domaine  $D$  est la partie du plan comprise entre le cercle de centre  $(1,0)$  et de rayon  $1$ , et le cercle de centre  $(1/2,0)$  et de rayon  $1/2$  située dans le demi-plan des  $y$  positifs.

Le premier cercle a pour équation polaire

$$r = \cos t$$

et le second

$$r = 2 \cos t$$

On intègre donc sur le domaine

$$\Delta = \left\{ (r, t) \mid 0 \leq t < \frac{\pi}{2}, \cos t \leq r \leq 2 \cos t \right\}$$

Utilisons les coordonnées polaires pour intégrer les fonctions positives sur  $D$

$$f_1(x, y) = \frac{x}{x^2 + y^2} \quad \text{et} \quad f_2(x, y) = \frac{y}{x^2 + y^2}$$

On a

$$f_1(r \cos t, r \sin t) = \frac{\cos t}{r} \quad \text{et} \quad f_2(r \cos t, r \sin t) = \frac{\sin t}{r}$$

On a donc

$$I_1 = \iint_{\Delta} f_1(r \cos t, r \sin t) r dr dt = \iint_{\Delta} \cos t dr dt \quad \text{et} \quad I_2 = \iint_{\Delta} f_2(r \cos t, r \sin t) r dr dt = \iint_{\Delta} \sin t dr dt$$

On a tout d'abord

$$(I_1)_r(t) = \int_{\cos t}^{2 \cos t} \cos t dr = \cos^2 t \quad \text{et} \quad (I_2)_r(t) = \int_{\cos t}^{2 \cos t} \sin t dr = \cos t \sin t$$

Puis

$$I_1 = \int_0^{\pi/2} (I_1)_r(t) dt = \int_0^{\pi/2} \cos^2 t dt = \int_0^{\pi/2} \frac{1 + \cos 2t}{2} dt = \frac{1}{2} \left[ t + \frac{\sin 2t}{2} \right]_0^{\pi/2} = \frac{\pi}{4}$$

et

$$I_2 = \int_0^{\pi/2} (I_2)_r(t) dt = \int_0^{\pi/2} \sin t \cos t dt = \int_0^{\pi/2} \frac{\sin 2t}{2} dt = \frac{1}{2} \left[ -\frac{\cos 2t}{2} \right]_0^{\pi/2} = \frac{1}{2}$$

Finalement

$$I = I_1 - I_2 = \frac{\pi - 2}{4}$$



Wolfram|Alpha est un moteur de recherche scientifique, une superbe calculatrice à tout faire. Disponible sur le navigateur mais également sur mobile avec une application téléchargeable sur [Google Play](#) et l'[App Store](#).



Etudiez en musique !







Étudiant(e) (Nom, Prénom) : .....

Promotion, groupe : .....

Email : .....

### Auteurs de ces notes de cours

D'après un cours de [Arnaud Bodin](#).  
Revu et augmenté par [Antoine Géré](#).  
Relu par (**coming soon**).



Wolfram|Alpha est un moteur de recherche scientifique, une superbe calculatrice à tout faire. Disponible sur le navigateur mais également sur mobile avec une application téléchargeable sur [Google Play](#) et l'[App Store](#).



Etudiez en musique !





Étudiant(e) (Nom, Prénom) : .....

Promotion, groupe : .....

Email : .....

### Auteurs de ces notes de cours

Cours et exercices rédigés par [Antoine Géré](#).

Relu par (**coming soon**).